

# 社 会

(45分)

試験開始の合図があるまで、この問題冊子を開かず、  
下記の注意事項をよく読むこと。

## 注 意 事 項

1. 問題冊子は、23ページまであります。
2. 解答用紙は問題冊子の中央にはさんでいます。解答はすべて、解答用紙に書き込みなさい。
3. 始めの合図でページ数を確認し、受験番号・名前を書きなさい。
4. 問題の内容についての質問には、いっさい応じません。印刷のはっきりしないところがあれば、静かに手をあげなさい。
5. 時間を知りたいときも、静かに手をあげなさい。
6. 具合が悪くなったり、トイレに行きたいときは、手をあげて、監督の先生の指示に従って行動しなさい。
7. 問題冊子は、各自持ち帰ってよろしい。



問題は次のページから始まります

1 日本の人口について、あとの問いに答えなさい。

なお、特記しない限り、人口は2017年のものです。

問1 日本の人口は約 [ A ] 億であり、世界の人口の約 [ B ] %にあたります。Aの数値を次の(あ)～(え)から、Bの数値を(お)～(く)からそれぞれ1つずつ選び、記号で答えなさい。

- (あ) 1.05      (い) 1.27      (う) 1.65      (え) 1.97  
(お) 1.7      (か) 2.5      (き) 2.8      (く) 4.3

問2 下の10カ国は、日本より人口の多い国であり、人口の多い順に並んでいます。Cの国を答えなさい。

中国      インド      アメリカ合衆国      [ C ]      ブラジル  
パキスタン      ナイジェリア      バングラデシュ      ロシア  
メキシコ

『世界国勢図会 2018/2019』より作成

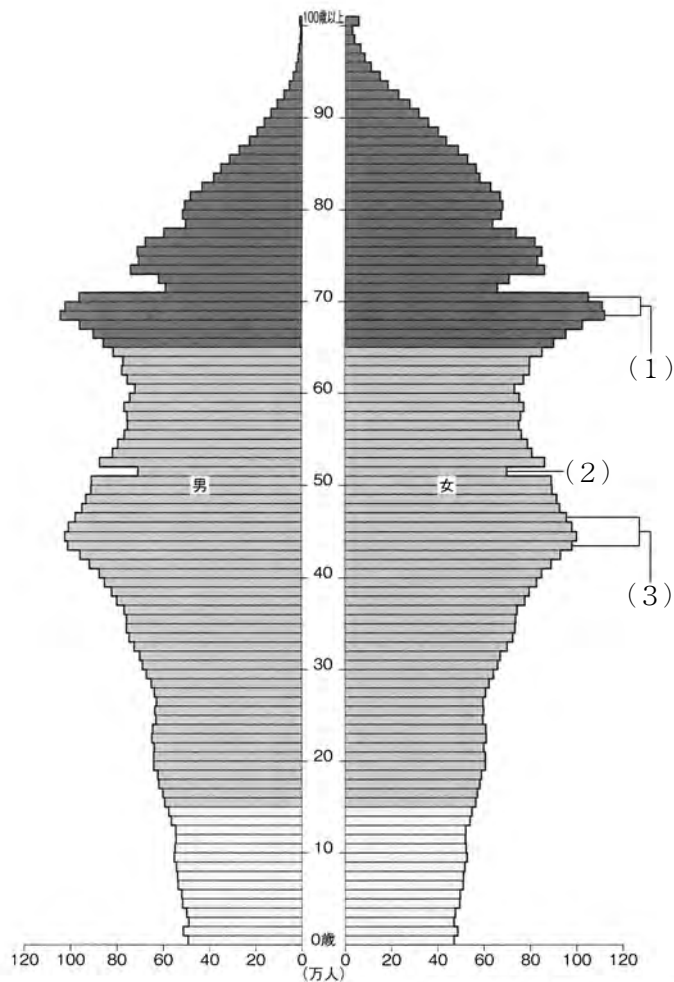
問3 下の表は、外国で暮らす日本人の多い上位5カ国とその人口、日本で暮らす外国人の多い上位5カ国とその人口をそれぞれ示しています。Dの国を答えなさい。

(単位：千人)

外国で暮らす日本人 (2016年)		日本で暮らす外国人	
アメリカ合衆国	422	[ D ]	731
[ D ]	128	韓国	451
オーストラリア	93	ベトナム	262
タイ	70	フィリピン	261
カナダ	70	ブラジル	191

『日本国勢図会 2018/2019』『データでみる県勢 2019』より作成

問4 下の図は、日本の人口ピラミッドを示しています。I・IIの問いに答えなさい。

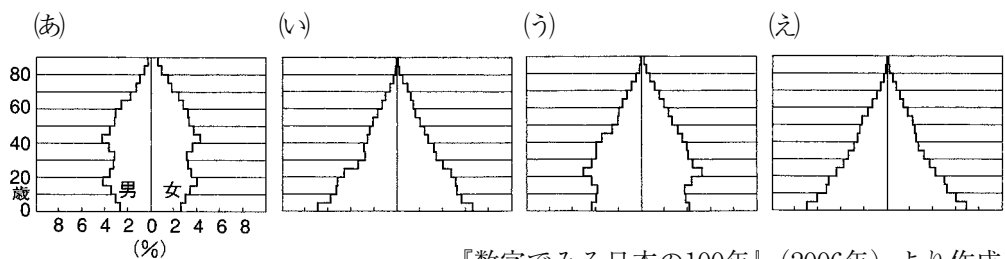


『データでみる県勢 2019』より作成

- I (1)あるいは(3)の年齢人口は、他の年齢人口と比べて多くなっています。この年齢の人たちが出生した時期を [ E ] といいます。Eの適語をカタカナ6字で答えなさい。
- II (2)の年齢の人たちが出生した年は [ F ] にあたり、江戸時代から残る迷信のため、その前後の年齢人口と比べて、出生者が少なくなりました。Fの適語をひらがな5字で答えなさい。

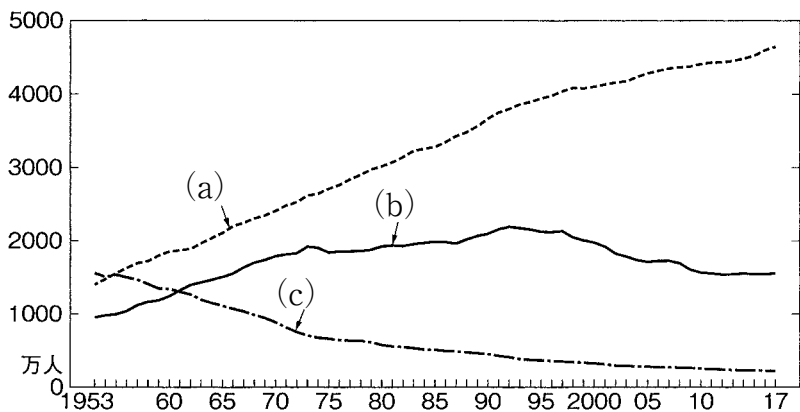
問5 最近100年間の日本において、最も低かった人口増加率は [ G ] 年の  
 -2.3%、最も高かった人口増加率は [ H ] 年の5.0%でした。Hの年  
 を西暦で答えなさい。なお、HはGの翌年です。

問6 下の図(あ)~(え)は、1930年・1950年・1970年・1990年における日本の人口  
 ピラミッドを示しています。古い順に記号で答えなさい。



『数字でみる日本の100年』(2006年)より作成

問7 下の図は、日本における産業別就業人口の推移を示しています。I・II  
 の問いに答えなさい。



『日本国勢図会 2018/2019』より作成

I (a) ~ (c) の就業人口の組み合わせとして、正しいものを次の(あ)~(か)から1つ選び、記号で答えなさい。

- (あ) a - 第1次産業 b - 第2次産業 c - 第3次産業
- (い) a - 第1次産業 b - 第3次産業 c - 第2次産業
- (う) a - 第2次産業 b - 第1次産業 c - 第3次産業
- (え) a - 第2次産業 b - 第3次産業 c - 第1次産業
- (お) a - 第3次産業 b - 第1次産業 c - 第2次産業
- (か) a - 第3次産業 b - 第2次産業 c - 第1次産業

II 下の(あ)~(う)は、産業別就業人口割合の高い上位3都県をそれぞれ示しています。第2次産業にあたるものを1つ選び、記号で答えなさい。

- (あ) 青森県・宮崎県・高知県
- (い) 東京都・沖縄県・神奈川県
- (う) 富山県・静岡県・愛知県

問8 下の表は、秋田県・沖縄県・東京都の年齢別人口割合を示しています。東京都にあたるものを(あ)~(う)から1つ選び、記号で答えなさい。

(単位：%)

都県	~14歳	15~64歳	65歳~
(あ)	10.1	54.3	35.6
(い)	11.2	65.7	23.0
(う)	17.1	61.9	21.0

『日本国勢図会 2018/2019』より作成

問9 下の表は、2015年における群馬県・埼玉県・東京都の昼夜間人口比率を示しています。埼玉県にあたるものを(あ)～(う)から1つ選び、記号で答えなさい。なお、昼夜間人口比率は、夜間人口100あたりの昼間人口をいいます。

都県	(あ)	(い)	(う)
昼夜間人口比率	88.9	99.8	117.8

『日本国勢図会 2018/2019』より作成

問10 下の表は、日本において、人口の少ない下位3市・3村とその人口を示しています。Ⅰ～Ⅲの問いに答えなさい。

(単位：人)

人口の少ない市 (2018年)		人口の少ない村 (2018年)	
歌志内	3408	青ヶ島	166
夕張	8362	御蔵島	320
三笠	8784	利島	321

『データでみる県勢 2019』より作成

- Ⅰ 3市は [ I ] にあります。Ⅰの都道府県を漢字で答えなさい。
- Ⅱ 昭和40年代より、[ J ] 産業が不振におちいり、3市の人口は減少していきました。Ⅱの鉱産資源を答えなさい。
- Ⅲ 3村は東京都にあり、各島は [ K ] 諸島に属しています。Ⅲの諸島を漢字2字で答えなさい。



問11 下の表は、大阪・東京・名古屋の各大都市50km圏内における人口、その人口に占める10kmごとの人口割合を示しています。I・IIの問いに答えなさい。なお、大都市圏の中心はそれぞれ大阪市役所、東京都庁、名古屋市役所です。

(単位 人口：万人 割合：%)

	(あ)	(い)	(う)
50km圏内の人口	3377	934	1674
0～10km圏内の人口割合	11.9	24.9	25.8
10～20km圏内の人口割合	28.2	25.7	23.6
20～30km圏内の人口割合	23.7	19.7	16.6
30～40km圏内の人口割合	21.7	23.7	18.6
40～50km圏内の人口割合	14.6	6.1	15.3

『日本国勢図会 2018/2019』より作成

- I 大阪大都市圏にあたるものを(あ)～(う)から1つ選び、記号で答えなさい。
- II (あ)に含まれる人口100万人以上の都市をすべて答えなさい。なお、問題文中の都市は除きます。

- 2 2020年夏の東京オリンピックを迎えるにあたり、東京の歴史を振り返ってみましょう。次の文を読んで、あとの問いに答えなさい。

関東平野は関東ローム層という赤土の地層におおわれている。この関東ローム層からナイフ形石器が出土した茂呂遺跡は、東京都を含む南関東地方に旧石器文化が存在したことを示す遺跡である。①縄文時代に入ると定住がはじまり、多くの集落がうまれる。縄文文化の遺跡として、人々の残した貝塚がある。なかでも②1877年にアメリカ人動物学者が発見、発掘したことで知られる大森貝塚は有名である。関東地方に弥生文化が伝わったのは、紀元前後のことであろうと考えられている。③弥生時代の「弥生」の名称は、1884年に土器が発見された貝塚のある、東京都文京区弥生の地名に由来する。

古墳の築造が東京都内の地ではじまるのは、4世紀後半のことである。大田区のかめのこやまこふん古墳などの大型前方後円墳があり、国または都の史跡に指定されているものが多くある。④奈良時代に入り、武蔵国にも国分寺・国分尼寺が建てられた。平安時代には、平将門の乱を鎮圧した平貞盛の子孫などから⑤関東各地に武士団が出現する。⑥1180年、源頼朝は平氏打倒の兵をあげ、石橋山の戦いで敗れた後、鎌倉へ入り関東の基盤をかためる。その後、平氏の支配する武蔵国を奪い、その国務を江戸重長にまかせる。江戸氏は有力御家人として活躍し、⑦鎌倉幕府や足利氏、そして徳川氏などにつかえることになる。

⑧15世紀には、太田道灌が江戸城を築き、武蔵国の中心が府中から江戸に移る。そして、北条氏が伊豆・相模から武蔵国に進出する。その後、北条氏の関東支配は1590年に豊臣秀吉が小田原攻めを行い、北条氏が降伏するまで約100年におよぶことになる。豊臣秀吉は、徳川家康に北条氏滅亡後の関東に移ることを命じる。1603年には、⑨徳川家康が征夷大將軍に任ぜられ、江戸幕府をひらき、神田山を切り崩して、その土で日比谷入り江を埋め立てて、

江戸市街地を造成する。その後、水運網の整備が積極的に進められ、全国からの物資が江戸に集中し、日本最大の消費都市となる。⑩そして幕末の動乱を経て、1867年の大政奉還により江戸幕府は終わりを告げ、翌年には江戸は東京と改められ、元号は明治と改元される。

築地<sup>つきじ</sup>から東京の文明開化がはじまる。築地は幕府によって外国人居留地に定められ、明治政府が整備したことにより洋風家屋が建ち並ぶようになる。そして⑪1872年の銀座の大火をきっかけに、首都の外観を整えるため市街地改造事業がおこなわれ、銀座はロンドンの繁華街<sup>も</sup>を模した煉瓦街<sup>れんが</sup>となる。こうして、築地外国人居留地・銀座煉瓦街などは、東京を代表するものとなる。大正時代に入り⑫1914年、東京駅が完成する。1919年には、建築物の基準を定めた法である「市街地建築物法」や、都市の計画的な土地利用などをめざした「都市計画法」が公布される。しかし、1923年の関東大震災で明治以後の新しいものも下町の古いものもその多くが焼き尽くされ、壊滅的な被害をうける。その後、後藤新平らによる都市の復興が進む。

昭和時代を迎え、⑬1932年、東京府下の5郡82町村が東京市に編入されて35区となり「大東京」が実現することとなる。1941年12月8日に太平洋戦争が始まると、戦時体制の強化から行政の一体化がはかられ、東京府・東京市が統合して東京都となる。そして、⑭1945年3月10日の東京大空襲によって、市街地は大きな被害を受ける。戦後、1947年に区の統廃合が実施されて、35区から23区に再編成され、これが現在の東京23区となる。⑮高度経済成長期、⑯1964年のオリンピック東京大会を契機とした都市開発によって、東京の景観は大きく変化する。一方で、⑰公害が大きな社会問題となる。1970年代後半に大規模開発は落ち着いたかにみえたが、バブル景気の1980年代後半には再び加速され、東京は変化し続けることになる。

そして2013年、ブエノスアイレスで開かれた国際オリンピック委員会総会で、東京がイスタンブール、マドリードを抑えて再びオリンピックの開催都

市に選ばれる。これを機に、今また東京は大きく変わろうとしている。

問1 下線部①に関連して、<sup>こうづしま</sup>神津島などが産地で、ガラス質で打製石器の製作に適する火山岩を何といいますか、最も適する語句を漢字で答えなさい。

問2 下線部②の年に東京の上野公園で、<sup>しよくさんこうぎょう</sup>殖産興業のため第一回内国勸業博覧会が開催されました。これを成功に導いた内務省の初代長官である薩摩出身の人物は誰ですか、漢字で答えなさい。なお、次の写真の一番右<sup>みぎ</sup>端<sup>はし</sup>の人物です。



問3 問2の内務省は、明治政府の中で絶大な権力を有しており、言論・思想を取り締まったり、労働運動を弾圧したりしていました。この内務省がGHQの指示により廃止されたのはいつですか、適切なものを次の(あ)～(え)から1つ選び、記号で答えなさい。

(あ) 1970年      (い) 1964年      (う) 1947年      (え) 1940年

問4 下線部③について、この時代の記述として誤っているものを次の(あ)～(え)から1つ選び、記号で答えなさい。

- (あ) 弥生時代になると、農業生産の発達とともに貧富の差は次第に解消されていった。
- (い) 弥生時代になると、竪穴住居の生活とともに高床倉庫が営まれるようになった。
- (う) 弥生時代になると、食物を盛る高杯たかつきなど様々な形の土器が作られるようになった。
- (え) 弥生時代になると、石包丁による穂首刈りが行われるようになった。

問5 下線部④について、この時代の記述として誤っているものを次の(あ)～(え)から1つ選び、記号で答えなさい。

- (あ) 古代国家が中国の都をまねて造営した最初の都が平城京であった。
- (い) 遣唐使のなかには、阿倍仲麻呂のように唐の官職についた人もいた。
- (う) 鑑真が来日し、僧の守るべき規律を授けた。
- (え) 聖武天皇は、仏教の力で社会の不安を鎮めて国を治めようとした。

問6 下線部⑤に関連して、このあとに上皇の院政が始まる時期になりますが、1086年から院政を開始した上皇とは誰か漢字で答えなさい。また、この上皇の晩年に、衣川ころもがわ、北上川の近くに藤原清衡きよひらによって創建された阿弥陀堂を何といいますか、漢字6字で答えなさい。

問7 下線部⑥について、源平争乱に関する事柄(あ)～(え)を、年代の古い順に並べかえて、記号で答えなさい。

- (あ) 源義経が、屋島の戦いで平氏を破った。
- (い) 源頼朝が、富士川の戦いで平氏を破った。
- (う) 源義仲が、倶利伽羅峠くりからとうげの戦いで平氏を破った。
- (え) 源義経が、一ノ谷の戦いで平氏を破った。

問8 下線部⑦に関連して、次の資料A・Bを参考にしながら、下記の文章の空らんにも最も適する語句を漢字2字で答えなさい。



資料A




資料B

日本では、武士の慣習として、個別に名乗りを上げて参戦し、一騎討ちいっきうちの戦いに挑んで先駆けさきがを争っていた。そのため日本軍は、統率された集団戦のもとで火薬や毒矢を使用するモンゴル軍に大変苦戦しを強いられた。その中で戦功をあげた竹崎季長すえながは、幕府から【           】を得ることを目的に戦いに挑んでいた。

問9 下線部⑧に関連して、このころに将軍の権威<sup>けんい</sup>が失われ、荘園制の解体が進み戦国時代が始まるきっかけとなる戦乱がおこりました。京都が主戦場となった11年にわたるこの戦乱を何といいますか、最も適する語句を答えなさい。

問10 問9に関連して、戦国時代には、長槍や鉄砲を備えた兵士が、戦場で重要な役割を果たすようになりました。この兵士を何といいますか。次の資料を参考にしながら、最も適する語句を漢字2字で答えなさい。



問11 下線部⑨に関連して、江戸には、徳川氏と関係の深い寺として、芝の増上<sup>じょうじ</sup>寺とともに上野<sup>かみえいじ</sup>に寛永寺があります。寛永寺は、当時の将軍の保護を受けて1625年に創建されました。鎖国体制を強化したことで知られるこの将軍とは誰ですか、漢字で答えなさい。

問12 下線部⑩に関連して、次の文を読んであとの問いに答えなさい。

江戸幕府が鎖国政策をとる中、1853年にペリーが来航しました。ペリーは、日本に開国を要求してきましたが、具体的な目的は何でしたか、以下のフィルモア大統領の書簡を参考にしながら、記述として誤っているものをあとの(あ)～(え)の中から1つ選び、記号で答えなさい。

余(注1)はペルリ提督(注2)に命じて、陛下(注3)に他の事を告げしむ。吾が船舶にして毎年カリフォルニアより支那(注4)に赴くもの多く、又吾が人民にして、日本沿岸において捕鯨に従事するもの甚だ多し。荒天の際には、吾が船舶中の一艘が貴国沿岸において難破することもしばしばなり。かかる場合にはことごとく、吾等が他の船舶を送りてその財産及人民を運び去るまでは、吾が不幸なる人民を親切に遇し、その財産を保護せられんことを願い又期待するものなり。(略)願はくは吾が汽船及びその他の船舶が日本に停船して、石炭、食糧及び水の供給を受くることを許されよ。

『ペルリ提督日本遠征記』

(注1) 余：アメリカ合衆国のフィルモア大統領のこと。

(注2) ペルリ提督：ペリーのこと。

(注3) 陛下：天皇のこと。

(注4) 支那：中国のこと。

- (あ) 中国との貿易船や捕鯨船の寄港地として開国を求めた。
- (い) アメリカ船への石炭・食糧の供給のために開国を求めた。
- (う) 遭難した合衆国国民の保護のために開国を求めた。
- (え) 日本との貿易のために直ちに浦賀を貿易港とするように開国を求めた。



問13 問12に関連して、この時期に幕府は、開明的な人材を積極的に登用するとともに、国防の充実の必要性から品川沖に台場を建設させ、大船建造の禁を解くなどの改革をおこないました。大船建造の禁は、参勤交代の制度化と共に江戸幕府によって制定されていました。それらを定めた江戸幕府の基本法を何といいますか、最も適する語句を漢字5字で答えなさい。

問14 下線部⑪について、この同じ年の事柄の記述として適切なものを次の(あ)～(え)から1つ選び、記号で答えなさい。

- (あ) 咸臨丸が日本人の操縦で初めて太平洋を横断した。
- (い) 梅田に日本で初めてのターミナルデパートが誕生した。
- (う) 新橋駅と横浜駅間の鉄道が開通した。
- (え) 本州と北海道とを結ぶ青函トンネルが開業した。

問15 下線部⑫に関連して、1910年代の出来事の記述として誤っているものを次の(あ)～(え)から1つ選び、記号で答えなさい。

- (あ) 第一次世界大戦がはじまった。
- (い) ロシア革命がおこった。
- (う) 米騒動がおこった。
- (え) 大日本帝国憲法が発布された。

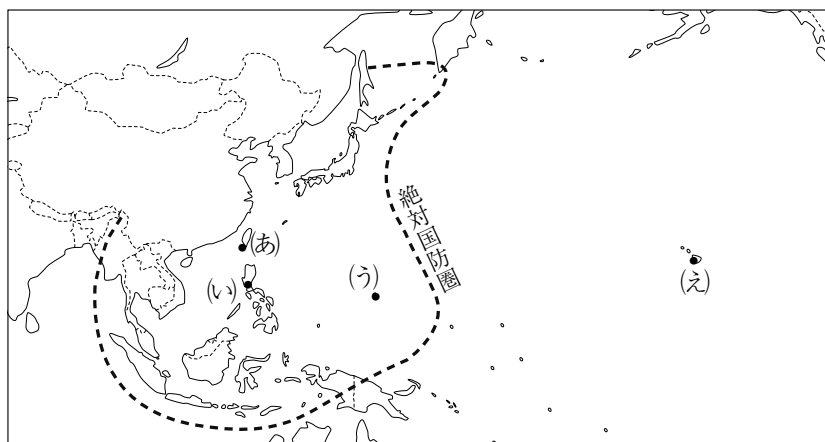
問16 下線部⑬について、このころ起こった事柄(あ)～(え)を、年代の古い順に並べかえて、記号で答えなさい。

- (あ) 日中戦争がはじまった。
- (い) 満州事変がはじまった。
- (う) 二・二六事件がおこった。
- (え) 五・一五事件がおこった。

問17 下線部⑭について、次の文を読んであとの問いに答えなさい。

マリアナ諸島のある島がアメリカ軍に占領されたことにより、<sup>ぜったいこくぼうけん</sup>絶対国防圏の一角が崩壊しました。その後、1945年3月10日の東京大空襲では、多数のアメリカ軍のB29爆撃機が人口密集地を中心<sup>しょういだん</sup>に焼夷弾を使用した爆撃をおこない、死者は約10万人にのぼりました。そのマリアナ諸島のある島とはどこにあたりますか、次の地図中の(あ)~(え)から1つ選び、記号で答えなさい。

\*絶対国防圏とは、太平洋戦争をおこなう上で戦略上「絶対確保すべき地域」のこと。



問18 下線部⑮に関連して、次の文を読んであとの問いに答えなさい。

1956年に、<sup>はとやまいちろう</sup>鳩山一郎首相とソ連のブルガーニン首相が、日ソ共同宣言に調印した。ソ連が日本の国際連合加盟を支持することにより、日本は同年12月に国際連合加盟<sup>いた</sup>に至った。これは日本が国際社会へ復帰したことを意味する。

日本が、国際連盟を脱退し国際社会から孤立し始めた時期として適切なものを次の(あ)~(え)から1つ選び、記号で答えなさい。

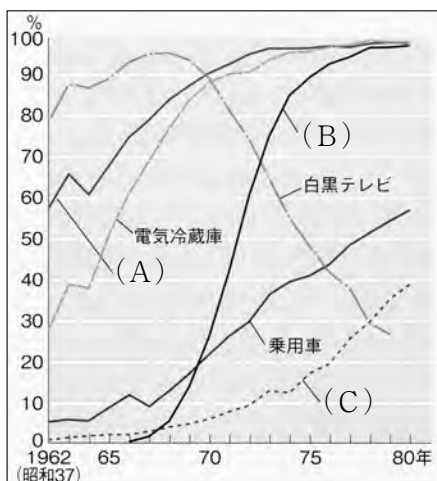
(あ) 1910年代 (い) 1920年代 (う) 1930年代 (え) 1940年代

問19 下線部⑯に関連して、次の文を読んであとの問いに答えなさい。

耐久消費財たいきゅうしょうひ ざいが国民の間に広く普及するなど、高度経済成長の影響は多方面におよぶ。この時期を通じて社会のあり方は大きな変貌へんぼうを遂げることとなった。

次の資料「耐久消費財普及率の推移」の(A)～(C)に最も適する語句の組合せを(あ)～(う)の中から1つ選び、記号で答えなさい。

\*耐久消費財とは、長期にわたって使うことのできる消費財のこと。



『日本統計年鑑』ほか

- |               |           |           |
|---------------|-----------|-----------|
| (あ) A 電気洗濯機   | B カラーテレビ  | C ルームエアコン |
| (い) A カラーテレビ  | B ルームエアコン | C 電気洗濯機   |
| (う) A ルームエアコン | B 電気洗濯機   | C カラーテレビ  |

問20 下線部⑰に関連して、1971年に公害対策行政と環境保全ほぜんを一体化するために設置された国の行政機関ぎょうせいを漢字で答えなさい。

3 以下の文は、日本経済新聞のコラム「親子スクール ニュースイチから一憲法改正ってどうするのー」（2017/06/03夕刊）におけるイチ子お姉さん（以下、イチ子）とからすけの対話を一部抜粋したものです。これを読んで、あとの各問いに答えなさい。

イチ子 安倍晋三首相が「2020年を新しい憲法施行の年にしたい」と発言。憲法改正って言葉をニュースでよく聞くようになってきたよね。

からすけ ①憲法って国の一番大事なルールだよ。変えることができるんだ。政治家だけで決めるの？ 僕らはどうやって改正に関わっていくのかな。

イチ子 安倍さんが所属する自民党は選挙時の国民への約束で、憲法を改正するとしているの。安倍さんは憲法改正を求める憲法記念日の集会にビデオメッセージを寄せたのよ。本格的な話し合いがこれから②国会で始まるわ。

からすけ 日本の憲法は第9条があるから「平和憲法」と呼ばれるって習ったけど。この9条も変わるの？

イチ子 戦争をしないことはもちろん、（ 1 ）を持たないと憲法で定めているのは、徹底した平和主義ね。安倍さんは、この平和主義を定めた9条の1項と2項はそのままにして、新しく自衛隊についての記述を加えようと考えているの。

からすけ どうして。

イチ子 日本には戦車や戦闘機を持つ陸・海・空の自衛隊があるでしょ。これは（ 1 ）なんだから「（ 1 ）不保持」を定めた憲法に違反する、つまり「自衛隊は違憲」と考える人もいるの。これに対して政府は「憲法は外国から攻撃された時、国民を守るために反撃する自衛権は禁止していない」から違憲ではないと説明してきたの。自

衛隊は必要最小限の組織で「( 1 ) ではない」と考えているのね。

からすけ うーん。分かりにくいね。自衛隊って世界でも10番目ぐらいに強いんでしょ？南スーダンの国連平和維持活動 [= ( 2 ) ] にも外国の軍隊と一緒に派遣されてて、帰国したってニュースで見たよ。

イチ子 そうね。海外での活動も一部に限られ、戦闘行為などはしない決まりになっているけど、外国の人たちから見たら「自衛隊は ( 1 ) ではない」という日本の主張は説得力がないよね。恐らく安倍さんもそう感じていて「違憲かもしれないけど、何かあれば命を張ってくれというのは無責任だ」と訴えているの。それで自衛隊の合憲性を文章できちんと示したらどうかと言っているわ。

からすけ 9条以外にも改正するところはあるのかな。

イチ子 高校や大学の授業料を原則無料にする「高等教育の無償化」もテーマの一つ。③憲法は中学までの義務教育は無償と定めているんだけど、それを大学まで広げて教育の機会を広げようというアイデアね。すでに国会の憲法審査会では議論が始まっているわ。

からすけ 家計も楽になるし反対する人はいないんじゃない。僕も賛成だな。

イチ子 そうでもないのよ。実現には3兆円以上のお金が必要なの。結局は④税金で授業料をまかなうわけだから慎重な意見も多いのよ。

からすけ そっかあ。憲法を変えるには、具体的にどうするの。

イチ子 自民党は年内にも憲法改正の基となる原案を示すつもりで、まずは衆議院と参議院に作った憲法審査会でその案について話し合うの。自民党と一緒に政策を進める公明党の中にも、9条の改正には慎重な人がいるから議論は簡単ではないわね。憲法審査会で原案を検討した後、衆参それぞれの本会議で ( 3 ) 以上の賛成があれば、発議といって憲法改正を国民に提案することになるの。

からすけ 僕たち国民はどう関わるの？

イチ子 国会での発議というのは、国会から国民の皆さん、憲法改正についてどう考えますか？という問いかけなのよ。ここからが私たち国民の出番。最終的には国民投票で私たち一人ひとりが決めるの。来年6月（注：2018年6月）から国民投票ができる年齢が20歳から18歳に引き下げられるの。だから、今の中学生や高校生も無関係じゃないのよ。

からすけ 僕が18歳になった時かもしれないね。どんな投票なんだろう。

イチ子 実は投票用紙のひな型（注：試作品）はもうできていて、賛成か反対かの文字を丸で囲むの。

からすけ 迷うね。みんなどう考えているのかな。

イチ子 マスコミ各社の世論調査をみると、9条改正がどうかというだけでなく、期限を2020年と決めると十分に意見を言い合えないまま進むのではないかとの反発もあるようで賛否は半々。憲法改正の国民投票の前には、⑤通常の選挙で「Aさんに投票して」と呼びかけてはいけないのとは違って、政党やマスコミ、個人などが賛成・反対を訴える運動が許されるの。どんな人がどんな意見を言うか注目したいわ。大事なのは暮らしやすいルールを作れるかどうか。メキシコやスイスは100回以上も憲法を改正しているの。

からすけ これからはニュースをよくチェックしようっと。

問1 文中の(1)・(2)内にあてはまる最も適切な語句を書きなさい。ただし、(2)はアルファベットで書くこと。

問2 文中の(3)内にあてはまる語句を次の(あ)~(え)から1つ選び、記号で答えなさい。

- (あ) 出席議員の過半数      (い) 出席議員の3分の2  
(う) 総議員の過半数      (え) 総議員の3分の2

問3 下線部②について、国会を構成する衆議院と参議院について述べた文として正しいものを次の(あ)~(え)から1つ選び、記号で答えなさい。

- (あ) 条約の承認に関しては、衆議院ではなく、参議院の議決が優先する。  
(い) 衆議院議員と参議院議員の数は同数であるが、衆議院には解散があるところに違いがある。  
(う) 内閣総理大臣は衆議院議員の中から必ず指名され、参議院議員からは指名することができない。  
(え) 衆議院議員選挙は通常一斉に行われるが、参議院議員選挙は議員の半数を3年ごとに改選する形で行われる。

問4 下線部③について、これは、憲法26条によって保障されている。次の条文の( )内にあてはまる語句を漢字2字で書きなさい。

- |  |
|--|
| <p>1 すべて国民は、法律の定めるところにより、その( )に応じて、ひとしく教育を受ける権利を有する。</p> <p>2 すべて国民は、法律の定めるところにより、その保護する子女に普通教育を受けさせる義務を負ふ。義務教育は、これを無償とする。</p> |
|--|

問5 下線部④について、税金について述べた文として誤っているものを次の(あ)～(え)から1つ選び、記号で答えなさい。

- (あ) 地方税とは、ふるさと納税などのように地域住民以外から自治体が直接集める税金のことである。
- (い) 消費税は税を負担する人と納める人が違うので間接税である。
- (う) 所得税は収入が多くなるほど税率が高くなる仕組みとなっている。
- (え) 納税は国民の義務として憲法に明記されている。

問6 下線部⑤について、これは何という法律で規定されていることか。漢字で答えなさい。

問7 本文の内容に合う文章を次の(あ)～(え)から1つ選び、記号で答えなさい。

- (あ) 国民投票において個人的に賛成・反対の呼びかけを行うことは禁止されている。
- (い) 政府は、自衛隊の存在を憲法に明記すべきだと考えている。
- (う) 高等教育の無償化は、低予算で行えるためすべての政党が賛成と主張している。
- (え) 憲法審査会は、憲法改正原案を審議する組織で、衆議院のみに設置される。



問8 下線部①について、以下の2つの資料を読み、あとの問いに答えなさい。

資料1 近代憲法のなりたちについて

近代になるまでは国の主権者は国民ではなく、国王や貴族など一部の人々に限定されていました。生まれつき高い身分である彼らが多くの人々を支配し、重い税金を課すなどきびしい政治を行いました。しかし近代になるとこうした政治への不満が高まり、人々は革命によって国王や貴族の持つ権力をうばいました。アメリカ独立革命やフランス革命がその代表です。その後、人々は自らの自由や権利を守るために憲法を制定しました。そして人々は、政府が憲法に従わなければ政治ができないようにしました。憲法は、国王や貴族によって支配されてきた人々が、大変な思いをして獲得したものだだったのです。

資料2 日本国憲法 第10章 最高法規

第97条 この憲法が日本国民に保障する基本的人権は、人類の多年にわたる自由獲得の努力の成果であつて、これらの権利は、過去幾多の試練に堪へ、現在及び将来の国民に対し、侵すことのできない永久の権利として信託されたものである。

第98条 この憲法は、国の最高法規であつて、その条規に反する法律、命令、詔勅及び国務に関するその他の行為の全部又は一部は、その効力を有しない。(後略)

第99条 天皇又は摂政及び国務大臣、国会議員、裁判官その他の公務員は、この憲法を尊重し擁護する義務を負ふ。

以上の資料をふまえて、近代に制定された憲法はどのような役割を持っているか、そして憲法を守らなければならない主体は何かという2点について、40字以内で説明しなさい。なお、文頭は「憲法は、」から始めること。



2020A4

↓ここにシールを貼ってください↓

# 社会 解答用紙

受験番号							
名前							

1	問1	A		B						
	問2				問3					
	問4	I				II				
	問5				問6	( ) → ( ) → ( ) → ( )				
	問7	I		II			問8		問9	
	問10	I				II				
			III							
	問11	I		II						

2	問1				問2						
	問3			問4			問5				
	問6	上皇				阿弥陀堂					
	問7	( ) → ( ) → ( ) → ( )				問8					
	問9				問10						
	問11				問12			問13			
	問14			問15			問16	( ) → ( ) → ( ) → ( )			
	問17			問18			問19			問20	庁

3	問1	1					2				
	問2			問3			問4				
	問5			問6				問7			
	問8	憲	法	は	、						
										10	
										20	
										30	
										40	

A日程・社会

- 1 問1 A (い) B (お)  
問2 インドネシア 問3 中国  
問4 [I] ベビーブーム [II] ひのえうま  
問5 1946 問6 (え) → (い) → (う) → (あ)  
問7 [I] (か) [II] (う) 問8 (い) 問9 (あ)  
問10 [I] 北海道 [II] 石炭  
[III] 伊豆  
問11 [I] (う) [II] 横浜、川崎、さいたま
- 2 問1 黒曜石 問2 大久保利通  
問3 う 問4 あ 問5 あ  
問6 [上皇] 白河上皇 [阿弥陀堂] 中尊寺金色堂  
問7 (い) → (う) → (え) → (あ) 問8 恩賞 (土地)  
問9 応仁の乱 問10 足輕  
問11 徳川家光 問12 え 問13 武家諸法度  
問14 う 問15 え 問16 (い) → (え) → (う) → (あ)  
問17 う 問18 う 問19 あ 問20 環境 (庁)
- 3 問1 [1] 戦力 [2] PKO  
問2 え 問3 え 問4 能力  
問5 あ 問6 公職選挙法 問7 い  
問8 [憲法は、] 国民の自由や権利を守るもので、憲法を守るべき主体は政治家や公務員である。