

社 会

(40分)

試験開始の合図があるまで、この問題冊子を開かず、
下記の注意事項をよく読むこと。

注 意 事 項

1. 問題冊子は、20ページまであります。
2. 解答用紙は問題冊子の中央にはさんでいます。解答はすべて、解答用紙に書き込みなさい。
3. 始めの合図でページ数を確認し、受験番号・氏名を書きなさい。
4. 問題の内容についての質問には、いっさい応じません。印刷のはっきりしないところがあれば、静かに手をあげなさい。
5. 時間を知りたいときも、静かに手をあげなさい。
6. 具合が悪くなったり、トイレに行きたいときは、手をあげて、監督の先生の指示に従って行動しなさい。
7. 問題冊子は、各自持ち帰ってよろしい。

(社会1)

問題は次のページから始まります

次の文章を読んで、あとの問いに答えなさい。

この2年ほどのあいだ、アジア各地から日本を訪れる観光客が急増しています。増加率が高く人数も多いのは中国ですが、タイなど東南アジアの人びとも、どんどん日本にやってくるようになりました。日本人にとって、東南アジアはいままでよりも身近な存在となりつつあります。

以下は、東南アジアに関する、T中学校のS先生と生徒A君・B君・C君・D君・E君との対話です。これを読んで、あとの問いに答えなさい。

- S. 社会科の探究授業「^{たんきゅう}① 東南アジア地域研究」で、それぞれ興味のあるテーマを選んで夏休み中に調べてくることになっていたよね。今日は、それぞれ発表してもらおうか。
- A. ぼくは、「東南アジア」とはどの地域を指すのか調べてみました。地理が大好きなので地図をみていたんですが、いったい、どうしてこんなふうに区切ってあるのか、不思議に思いました。東アジアや南アジアとの境目はいいとして、オセアニアとの境がニューギニア島の中で切れているのは変だなとか思って……。
- S. おおっ、するどいね。地域区分の盲点（常識では見のがされているところ）をついているな。ただし、地図帳によっては現在の国境よりも言語や民族を重視して、ニューギニア島の全部をオセアニアに入れているものもあるんだが……。
- A. そこで、調べてみたんですが、「東南アジア」という名前が一般化したのはそう古くなくて、太平洋戦争中、日本と戦った^{もうてん}② 連合国が「東南アジア司令部」を置いたのがきっかけだそうです。戦前の日本では「南方」とか「南洋」とかいていたそうです。結局、一時は東南アジアの大部分を支配下に置いていた日本が戦争に負け、世界的に東南アジアという名前が普及し

たとのことですよ。

S. 日本は、③ 第一次世界大戦でドイツからうばったオセアニアの島じまを「南洋諸島」として支配し、そのうちパラオ島に「南洋庁」を置いていたんだ。つまり「南洋」にはオセアニアの一部も東南アジアもふくまれていたのもっと複雑だ。

A. そういえば、T高校の先輩方^{せんぱいがた}が国際交流のため、パラオに行かれたとか……。

S. 「南洋諸島」というと、1954年に日本の④ 遠洋漁業船（ 1 ）が被爆^{ひばく}し、原水爆禁止運動がおこるきっかけとなった（ 2 ）[※国名]による核実験も、戦前は日本が支配していたマーシャル諸島のビキニ環礁^{かんしょう}（サンゴの集まりが輪のようになった島）で行われたんだ。

ああ、ちょっと脱線したので、話を元にもどそう。実は「南洋」を使うとすれば、ニューギニア島が分断されることはないんだが、なぜ二分されることになったと思う？

A. 結局、もともと、どこの植民地であったかでラインが引かれてしまったからでしょう？

S. そうだね。ほとんどがヨーロッパの植民地になってしまった（ 3 ）大陸の国ぐにも、民族の分布を無視してラインが引かれたので、国境線の多くが直線になってしまい、（ 3 ）諸国が政治的になかなか安定しない原因の一つになっているんだ。

B. ぼくは、とにかく食べるのが大好きなので、東南アジアの食べ物について調べてみました。インターネットで調べてみると、T市内でも、少なくとも4つのタイレストランがあり、以前から、⑤ 韓国料理やインド料理の店もかなりあるので、T市はアジア料理の激戦区^{げきせんく}となってきたとのことですよ。実は、最近家族でタイカレーを食べに行ったことがあるのですが、以前インドレストランで食べたカレーと全然ちがうのでびっくりしました。

いろいろ調べてみると、タイ料理の特徴はハーブ（^{こうそう}香草）にあるそうです。でも、インド方面から伝わったスパイスの影響もあるし、中国料理の影響も特に首都バンコクでは強いとのことでした。

- S. そうだね。料理にはその国・その民族の歴史・文化が反映されているので調べてみると奥が深い。ところで、いまではほとんどのスーパーで売っている「^{なま}生春巻き」は、もともとどこの料理か知っている？
- B. ベトナムでしょう。たしかに春巻きという点では中国と似ていても、中国人はふつう^{なま}生で食べませんし、^⑥皮の原料は中華の春巻きは小麦粉で、生春巻きは米の粉ですから、その点もちがいます。2年前に家族でベトナムを旅行したのですが、朝食に（ 4 ）パンにハムや野菜などをはさんだのがよく食べられているそうです。クロワッサンも^{まちかど}街角でよくみかけました。これも、もともとベトナムを支配していた（ 4 ）の影響ですよ。
- A. そういえば、沖縄を旅行したとき、やたらとステーキ屋が多かったり、アメリカでよく食べられているタコス（メキシコ生まれのスナック）が、あちこちで売られているのがショックでした。ここはアメリカか？……と。
- S. それは、いまから十数年前までは特別あつかいがあって、輸入牛肉の関税が本土より低かったということも原因しているんだが……。
- C. ^⑦基地問題なんかでたくさんの方がアメリカをきらっていても、アメリカの食べ物が好きで全然いいじゃない？ 　　というか、沖縄の人はアメリカ人やアメリカの文化はきらいじゃないと思う。沖縄出身の歌手があれだけ多いのは、アメリカの影響なしには考えられないよ。
- S. 確かに。^⑧日本と韓国・中国との間に大きな外交問題があっても、現地では日本食は大人気だし、日本に来て日本商品をどんどん買ったがるのも同じだろう。彼らだって、なにも個人としての日本人がきらいなわけじゃないんだよ。日本人だってそんなに^{かま}構えずに、どんどん韓国や中国に行つてごく普通に現地の人と交流すれば、同じ人間どうし考えていることはよく

似ているとわかるのに……。

- A. 外国人観光客はどれくらい増えているのかな？
- C. そのテーマはぼくが調べてみました。政府の観光局によると、2015年の3月に日本を訪れた外国人は1年前よりも45%以上増えたそうです。中国の人が最も多く、しかも、80%以上増えたようですが、2013年7月に、タイやマレーシアの人は観光ビザ（外国人の入国を認めた許可証^{きょかしょう}）がいなくなったため、2014年にはそれぞれの国からの観光客が40%以上も増えたそうです。
- B. ⑨ 円安も大きな理由でしょう？
- C. 2012年の終わりに1ドルが90円ぐらいだったのが、いま〔ここでは2015年9月とします〕は120円ぐらいだから、3年ほど前には100ドルで（5a）円ぐらいのものしか買えなかったのが、いまなら（5b）円ぐらいのものが買えるよね。それとLCCとって、安くで乗れる飛行機も増えたのが大きいよ。
- A. ⑩ 関西空港は特にLCCの割合が大きいらしいです。そういえば、関空に行ったらレストランに「ハラル」と書いたステッカーがありましたし、関空にはイスラム教徒のためにお祈りの部屋もできたそうです。関空では頭を布でおおった女の人もたくさん見かけましたが、世界で一番イスラム教徒が多い国は、アラブの国ではなくて、東南アジアで一番人口の多い（6）だということです。
- S. ほう、よく知っているね。実は空港だけではなくて、日本各地のホテルや観光地のレストランで、イスラム教徒のお客さんを増やそうとして、一生けんめい「ハラル」の勉強をしているんだよ。
- C. ぼくの発表は以上ですが、今回は ⑪ アジアの観光客に人気の、東京・富士山・京都・大阪をめぐる「ゴールデンルート」、それから ⑫ 北海道の観光地 について調べてみようと思います。

- S. よく調べてきたね。次も期待しているよ。それでは、D君に発表してもらおう。
- D. ぼくは、日本と東南アジアのつながりについて、歴史をさかのぼって調べてみました。弥生時代に大陸から稲作が伝わった時に、田んぼをたがやすためのクワヤスキ、^{いなほ}稲穂をつみとるための（ 7 ）、米をたくわえる（ 8 ）倉庫も伝わりました。このうち（ 8 ）倉庫は東南アジアによく似たものが残っていて、もとをたどれば東南アジアから伝わったという説があるそうです。奈良時代、（ 9 ）天皇の命令でつくられた大仏が完成したとき、^{ざしき}儀式に招かれたベトナムの僧が「^{りんゆうがく}林邑楽」という芸能を演じたそうです。また、同じ奈良時代に遣唐使として中国に^{はけん}派遣された（ 10 ）が中国皇帝につかえ、地位の高い役人として^{あんなん}安南（ベトナム北部）に派遣されています。それから、ベトナムから中国に伝えられた「^{せんじょうまい}占城米」という¹³日照りに強い米が、鎌倉時代に日本に伝わり、室町時代になると盛んに栽培されるようになります。室町時代に統一された（ 11 ）王国では、¹⁴那覇港を中心に東南アジアで手に入れた特産品を（ 12 ）[中国の王朝名]・朝鮮国・日本に送る中継貿易で栄えましたが、そのころタイから入ってきた技術で「^{あわもり}泡盛」というお酒が造られるようになったそうです。室町時代の終わりごろに、（ 13 ）に流れ着いた中国船に乗っていた（ 14 ）人が最初に鉄砲を伝えたとされていますが、その後たくさん輸入されるようになった鉄砲はヨーロッパ製だけではなく、東南アジア製も多かったという説があると知って^{おどろ}驚きました。（ 14 ）人やスペイン人らの南蛮貿易では、東南アジアの商品もたくさん日本に入ってきました。それから、江戸時代の初めごろの^{しゅいんせん}朱印船貿易では、日本の商船が東南アジアに向かって現地を取り引きを行い、各地に日本人が住みついて自治を行う（ 15 ）がつくられました。ベトナムのホイアンという町では、日本の発掘調査によって、¹⁵「^{ひぜんやき}肥前焼」が発見されています。でも、結局は鎖

国によって（ 15 ）もなくなってしまったとのことで残念です。

- S. ただし、鎖国のあと東南アジアとの関係が切れたのではないんだ。（ 16 ）
港にかぎって来航を認められ、出島で貿易を行った（ 17 ）人も直接本
国から来たのではないんだ。
- A. へーえ。知らなかったです。（ 17 ）から来たと思っていました。
- S. 植民地であった（ 6 ）のジャカルタ（バタビア港）から来ていた。東
南アジアで手に入れた現地の製品や中国製品もたくさん運んできている。
ちなみに、「ジャガイモ」ということばも、ジャガタライモ、つまりジャカ
ルタから来たイモということらしい。
- D. つぎに、近代に入ります。明治維新以降の改革によって近代化に成功し
た日本のことを学び、（ 4 ）からの独立運動にいかそうとして、日露戦
争のころから合計200人ほどのベトナム人の留学生が来たそうです。東に遊
ぶと書いて「ドンズー」運動と言うのですが、^{①⑥}日露戦争のあと1907年に
日本と（ 4 ）がアジアでの利益を認めあうための取り決めをしたとき、
（ 4 ）の要求で彼らは日本から追い払われた、とのことです。
- C. それは残念ですね。せっかく日本のことを勉強したかったというのに……。
- D. あと、太平洋戦争のころの日本と東南アジアについても、簡単に調べたの
ですが、A君が先に説明してくれたので、ぼくの発表はこれで終わります。
- S. さすが、歴史ではクラスでナンバーワンのD君。最近の学説や発掘調査ま
で調べたのは、すばらしいね。では、最後にE君に発表してもらおう。
- E. ぼくは、第二次世界大戦後の東南アジアについて、日本とのかかわりを中
心に調べてみました。大戦のあと、東南アジアでは、カンボジア・
（ 6 ）・ラオス・南ベトナム・フィリピンが、1951年に連合国の一員と
して日本と（ 18 ）平和条約をむすび、ビルマ（現ミャンマー）も1954
年に日本との平和条約を結びます。このころから1960年代前半にかけては、
ある意味では東南アジアが**かがや**輝いていた時期だといえるんじゃない

でしょうか。1955年には（ 6 ）で第1回アジア・アフリカ会議が開かれ、29カ国が参加しています。開催国（ 6 ）はアメリカにも社会主義ソ連にも距離を置く「第三世界」の指導的国家の一つとして期待されたんです。ここで発表された「平和十原則」では、^⑱国連憲章の尊重もうたわれています。話がかわって、東南アジアと日本との講和後の話の続きです。日本はビルマ・（ 6 ）・フィリピン・南ベトナムに対しては、戦争の償いを行いました^{つぐな}が、そのお金で建設工事などを行うときに、日本の企業がそれをうけおうことによって東南アジアに進出するきっかけを作りました。このあと、^⑲日本の高度経済成長によって、企業の東南アジア進出がますます進んでいきます。

- A. お金を払うことで日本が損したように思ったけど、結果的には得したんですね。日本は、うまいことやるじゃないですか。
- E. でも、1974年に、^⑳内閣総理大臣の田中角栄^{かくえい}がタイや（ 6 ）を訪問したとき、激しい反日デモや暴動が起きます。日本企業による経済進出が、地元の人によって、戦前の日本軍による支配とダブって受け止められてしまうことに、日本人は初めて気づかされたのです。ほくが調べてきたのはここまでです。
- A. 日本の企業が進出することは別に悪くないのに、どうしてそんなことになるのでしょうか？
- S. 当時は、現地の人は日本企業で低く見られたし、給料もすごく安かったんだ。それに、そのころ日本では、^㉑公害問題に対する国民の目がきびしくなっていて、^㉒裁判をおこした住民が企業に勝訴することも多くなっていたから、日本の基準では受け入れられない工場を東南アジアにつくったり、^{はい}廃棄物^{きぶつ}を運んで捨てたりしたこともあったんだ。
- A. そうだったんですか。逆に日本がそんなふうにされたら、おこるでしょうね。でも、タイ・マレーシア・（ 6 ）などの人びとは、今は日本に対し

て好意的だといわれているんじゃないですか？

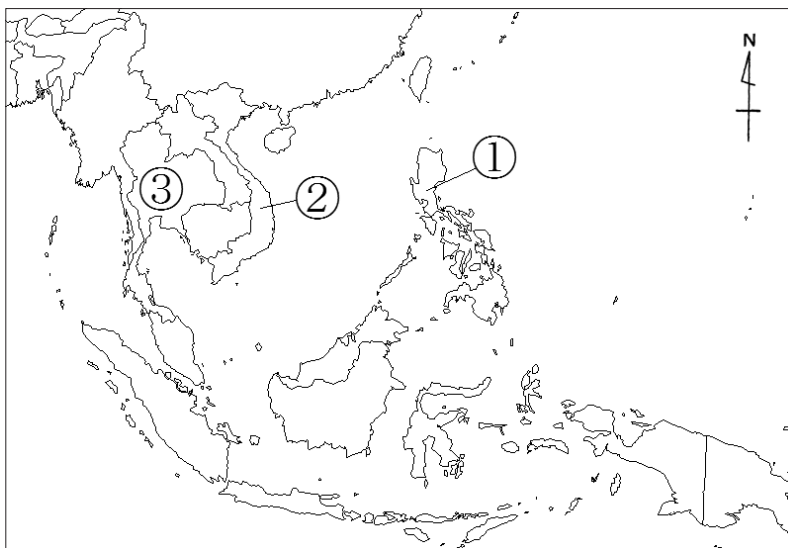
- S. このあと、日本政府は東南アジアとの文化交流に力を入れ始めるし、日本人社員も相手国の文化を学ぶようになる。それから、現地の人^{あつか}の扱^{あつか}いもだんだんと良くなっているからかもしれない。でも、せいぜいここ二・三十年ほどのことだ。国際関係というのは目まぐるしく変わってきている。日本の友好国がいつ日本と仲が悪くなるかわからないから、常に努力をおこたってはならない。逆に、いまは中国や韓国と仲が悪いからといってあきらめたらだめなんだ。日本がアジアの人びとから信頼され、お互いに助け合^あって発展していけるかどうか……それは、君たちがどう行動するかにかかっている。社会科を勉強するのは、ほんとうは受験のためではない。未来の日本そして世界をになう君たちがその指針^{ししん}（みちしるべ）を見つけるためなんだ。今日しっかり調べてきてくれ、議論をすることができた君たちなら、きっとやってくれるであろう。じゃあ、時間が来たので今日はここまでにしよう。

問1. 文中の空らん (1) ~ (18) にあてはまる最も適切なことばを答えなさい。ただし、(1)、(7) ~ (13)、(15)、(16) については漢字で、(5 a)・(5 b)については、数字で答えなさい。なお、(2) [※国名]については、本文中に使われている国名のうち1つがあてはまります。

問2. 下線部①に関して、次の表中A~Cは下の地図中①~③の国の人口、面積、日本への主な輸出農水産物について表したものです。正しい組み合わせをあとの(あ)~(か)のなかから1つ選び、記号で答えなさい。

	人口(千人) 2014年	面積 (千km ²)	日本への主な輸出 農水産物(2014年)
A	92548	331	えび、コーヒー豆
B	67223	513	米、天然ゴム
C	100096	300	バナナ

帝国書院ホームページ 統計資料より作成。



- (あ) ①-A ②-B ③-C (い) ①-A ②-C ③-B
 (う) ①-B ②-A ③-C (え) ①-B ②-C ③-A
 (お) ①-C ②-A ③-B (か) ①-C ②-B ③-A

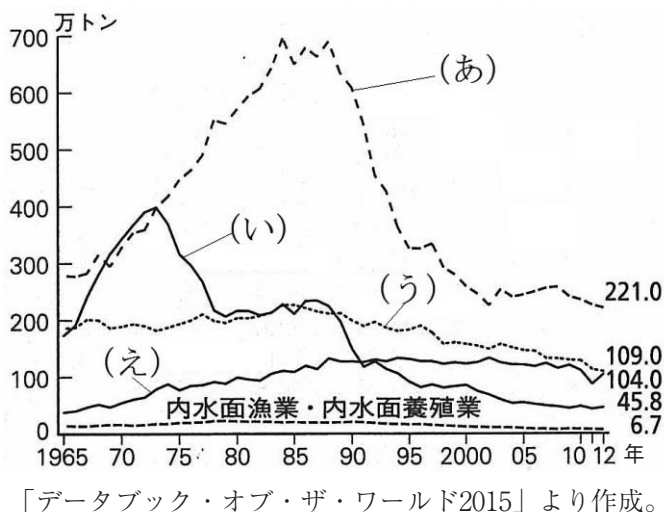
問3. 下線部②にあてはまらない国を、次の(あ)~(え)のなかから1つ選び、記号で答えなさい。

- (あ) 中華民国 (い) オーストラリア (う) ドイツ (え) オランダ

問4. 下線部③の開戦5年前から、戦争が終わって5年後までの日本に関する次のできごと(あ)~(え)を、年代の古いものから順に並べ、記号で答えなさい。

- (あ) 国際連盟に加盟した。
 (い) 日本が韓国(朝鮮)を併合した。
 (う) 関税自主権を完全に回復した。
 (え) 米騒動がおこった。

問5. 下線部④に関連して、次のグラフは日本の漁業部門別の漁獲量の移り変わりを表したものです。グラフ中の(あ)~(え)は遠洋漁業、沿岸漁業、沖合漁業、海面養殖業のいずれかです。遠洋漁業に当てはまるものを(あ)~(え)のなかから1つ選び、記号で答えなさい。



問6. 下線部⑤に関して、現地の韓国料理・インド料理、それぞれにあてはまる正しい説明文を、次の(あ)~(か)のなかから2つずつ選び、記号で答えなさい。

- (あ) ごはんやおかずは箸^{はし}で食べ、スープは器を口につけて飲むのが基本である。
- (い) ごはんやスープはスプーンを使い、おかずは箸を使って食べるのが基本である。
- (う) キムチは日本の漬物^{つけもの}のような付け足^{つ た}しの食べ物ではなく、重要なおかずである。
- (え) もともと、右手の指を使って食べるのが基本だったが、都市部ではナイフやフォークを使うことも多くなっている。
- (お) 宗教上の理由から、日本ではよく食べられる牛肉のカレーは、ほとんど食べられていない。
- (か) 宗教上の理由から、野菜だけのカレーは、ほとんど食べられていない。

問7. 下線部⑥に関連して、ベトナムやタイなど東南アジアでは小麦よりも米がよく作られるのはなぜですか。気候の特色を20字以内で説明しなさい。

--	--	--	--	--	--	--	--	--	--	--	--	--	--	--	--	--	--	--	--	--	--

(20)

問8. 下線部⑦に関する次の説明文(あ)～(え)のうち、あやまっているものを1つ選び、記号で答えなさい。

- (あ) 在日米軍^{ざいにち}の専用基地のうち、面積でいうと、おおよそ7割が沖縄県内に存在している。
- (い) 米軍基地の整理・縮小の是非^{ぜ ひ}を問う住民投票が沖縄県で行われたことがある。
- (う) 在日米軍の基地は、日米安全保障条約にもとづいて設置されている。
- (え) 日米両政府が合意した普天間^{ふてんま}基地の辺野古^{へ の こ}への移設^{いせつ}は、すでに完了した。

問9. 下線部⑧に関する次の説明文(あ)～(え)のうち、正しいものを1つ選び、記号で答えなさい。

- (あ) 中国は、日中戦争での被害について、中国政府への賠償金^{ばいしょうきん}を日本に要求し続けている。
- (い) 韓国は、日本の植民地支配による被害について、韓国政府への賠償金を日本に要求し続けている。
- (う) 日本は、中国が軍事力でもって実際に支配し続けている尖閣諸島^{せんかく}の領有権を主張している。
- (え) 日本は、韓国が軍事力でもって実際に支配し続けている竹島の領有権を主張している。

問10. 下線部⑨に関連して、円安のときに日本で生活している人の発言として、もっとも適切なものを次の(あ)～(え)のなかから1つ選び、記号で答えなさい。

- (あ) 「円安が進めば、アメリカ産のものが安く買えるようになるなあ。」
- (い) 「円安だと、日本にある工場がどんどん海外に出ていってしまうようになるね。」
- (う) 「円安だと、海外旅行に行くのは高くつくから、今年は国内旅行にしよう。」
- (え) 「円安だから、今のうちに預金の一部をドルに換えておいて、円高になった時に円にもどせばもうかるねえ。」

問11. 下線部⑩に関連して、次の表は東京国際空港、成田国際空港、関西国際空港、福岡空港のいずれかにおける、週あたりの国際線定期便の就航数しゅうこうすうについて表したものです。関西国際空港にあてはまるものを、表中の(あ)～(え)のなかから1つ選び、記号で答えなさい。

	アジア便	北アメリカ便	国際線合計
(あ)	709	35	830
(い)	245	5	260
(う)	410	70	572
(え)	833	315	1419

国土交通省「各空港、国際線の就航状況調べ（2014年12月26日発表）」より作成。

問12. 下線部⑪に関して、次の表は観光庁の行った訪日外国人客の消費調査のうち、東京都、大阪府、京都府のいずれかについて表したものです。正しい組み合わせをあとの(あ)~(か)のなかから1つ選び、記号で答えなさい。

	主な来訪目的 (%)		買物場所 (%) ※複数回答	
	観光	ビジネス	デパート	観光地のみやげ物屋
A	70.5	9.6	52.7	37.3
B	69.3	8.0	55.8	52.1
C	56.1	15.4	55.8	30.4

観光庁ホームページ「訪日外国人消費動向調査」より作成。統計年次は2014年。

- (あ) A－東京 B－京都 C－大阪
 (い) A－東京 B－大阪 C－京都
 (う) A－京都 B－東京 C－大阪
 (え) A－京都 B－大阪 C－東京
 (お) A－大阪 B－東京 C－京都
 (か) A－大阪 B－京都 C－東京

問13. 下線部⑫の温泉地として正しいものを、次の(あ)~(お)のなかから1つ選び、記号で答えなさい。

- (あ) 河口湖温泉 (い) 洞爺湖温泉 (う) 別府温泉
 (え) 熱海温泉 (お) 白浜温泉

問14. 下線部⑬に関連して、日本の農業の歴史に関する次の説明文(あ)～(え)のうち、正しいものを1つ選び、記号で答えなさい。

- (あ) 平安時代になると、米のほかに、綿花や菜種などの商品作物も盛んに栽培されるようになった。
- (い) 鎌倉時代ごろから、田植えの時に豊作を祈って、田楽という芸能が盛んに演じられるようになった。
- (う) 室町時代には、備中ぐわや千歯こきなどの新しい農具が広まり、新田開発も盛んにおこなわれるようになった。
- (え) 江戸時代には、収穫された米の3パーセントほどが、租として役所に納められた。

問15. 下線部⑭を描いた絵を、以下の(あ)~(え)のなかから1つ選び、記号で答えなさい。


(あ)




(い)



(う)



(え)



問16. 下線部⑮に関して、豊臣秀吉の朝鮮出兵によって連れてこられた李^り参^{さん}平^{べい}が現在の佐賀県で始めた焼き物の名前を漢字で答えなさい。

問17. 下線部⑯に関する説明文としてあやまっているものを、次の(あ)~(お)のなかから2つ選び、記号で答えなさい。

- (あ) 江戸時代の身分制度が廃止された結果、長いあいだ最低の身分におかれて苦しめられてきた人びとは、のぞんだ仕事につくことができるようになり、結婚差別もなくなった。
- (い) 武士の軍隊にかえて国民中心の軍隊をつくるために、成人男子に兵役の義務を定めた。
- (う) 政府が外国から機械を買い入れ、生糸や兵器などをつくる官営工場を設けた。
- (え) 大日本帝国憲法では、法律の範囲内で、言論・集会・結社^{けっしや}（政治団体をつくること）の自由が認められていた。
- (お) 大日本帝国憲法では、国民は健康で文化的な最低限度の生活を営むことのできる権利を認められていた。

問18. 下線部⑰に関連して、日露戦争の結果、ロシアから^{かくとく}獲得したものに関する次の説明文(あ)~(え)のうち、正しいものを2つ選び、記号で答えなさい。

- (あ) 日本は、クナシリ島とエトロフ島を得た。
- (い) 日本は、樺太^{からふと}（サハリン）の南半分を得た。
- (う) 日本は、ロシア経営の鉄道のうち、南満州の路線の経営権を得た。
- (え) 日本は、ロシアから多額の賠償金を得た。

問19. 下線部⑱の内容としてあやまっているものを、次の(あ)～(え)のなかから1つ選び、記号で答えなさい。

- (あ) 世界の平和と安全を守り、国と国との争いを、話し合いによって平和的に解決する。
- (い) 核兵器のない世界の実現に向けて、各国は努力する。
- (う) すべての国が平等な立場で仲良く発展していくようにする。
- (え) 人権と自由を尊重していくために、各国は協力しあうようにする。

問20. 下線部⑲に関連して、1960年代の日本の経済・社会に関する次の文(あ)～(え)のうち、正しいものを1つ選び、記号で答えなさい。

- (あ) 多くの家庭でパソコンが使われるようになり、携帯電話を持ち歩く人も現れた。
- (い) 多くの家庭に普及した白黒テレビ・冷蔵庫・自動車は「三種の神器」とよばれた。
- (う) アジアで初めてのオリンピックが東京で開かれ、それに合わせて新幹線や高速道路なども建設された。
- (え) 第4次中東戦争をきっかけに、アラブ諸国が石油のねだんを大はばに引き上げたため、大変な物価高となったが、新幹線や高速道路などの建設工事は盛んに行われた。

問21. 下線部⑳に関する次の説明文(あ)～(え)のうち、正しいものを1つ選び、記号で答えなさい。

- (あ) 内閣総理大臣は、最高裁判所長官を任命する。
- (い) 内閣総理大臣は、自衛隊の最高指揮権を持つ。
- (う) 内閣総理大臣は、予算を議決する。
- (え) 内閣総理大臣は、憲法・条約・法律を公布する。

問22. 下線部㉑に関連して、四大公害事件についての次の文(あ)～(え)のうち、あやまっているものを1つ選び、記号で答えなさい。

- (あ) 熊本県の水俣では、工場から出された廃水の中の有機水銀^{ゆうき}によって汚染^{おせん}された魚を食べた人びとが健康をおかされた。
- (い) 新潟県の阿賀野川流域では、工場から出された廃水の中の有機水銀によって汚染された魚を食べた人びとが健康をおかされた。
- (う) 富山県の神通川流域では、上流の鉱山から流れ出た廃水の中のカドミウムによって汚染された農作物を食べた人びとが健康をおかされた。
- (え) 三重県の四日市では、工場から出された廃水の中のカドミウムによって汚染された魚を食べた人びとが健康をおかされた。

問23. 下線部②について述べた次の文の空らん（ 1 ）～（ 4 ）にあてはまる最も適切なことばを答えなさい。ただし、（ 1 ）～（ 3 ）については漢字で、（ 4 ）については数字で答えなさい。

三権分立に基づいて、すべての（ 1 ）権は裁判所に属している。裁判所には（ 2 ）と下級裁判所があり、下級裁判所としては高等裁判所・（ 3 ）・家庭裁判所・簡易裁判所がある。

国民は裁判の結果に不服がある場合、さらに上級の裁判所にうたえて、通常（ 4 ）回まで裁判を受けられるようになっている。これは裁判をより慎重しんちょうに行うことによって、国民の権利を守るためである。

社 会 解 答 用 紙	受験番号		氏名
--------------------	------	--	----

問 1	(1)	(2)	(3)	(4)
	(5a)	(5b)	(6)	(7)
	(8)	(9)	(10)	(11)
	(12)	(13)	(14)	(15)
	(16)	(17)	(18)	
問 2	問 3	問 4 () → () → () → ()		
問 5	問 6 韓国	インド		
問 7				(20)
問 8	問 9	問 10	問 11	問 12
問 13	問 14	問 15	問 16	
問 17	問 18	問 19		
問 20	問 21	問 22		
問 23	(1)	(2)	(3)	(4)

I : 小計

II : 小計

III : 小計

合 計 :

前期・社会

- 問1 (1) 第五福竜丸 (2) アメリカ (3) アフリカ (4) フランス
(5a) 9000 (5b) 12000 (6) インドネシア (7) 石包丁
(8) 高床 (9) 聖武 (10) 阿倍仲麻呂 (11) 琉球
(12) 明 (13) 種子島 (14) ポルトガル (15) 日本町
(16) 長崎 (17) オランダ (18) サンフランシスコ
- 問2 お 問3 う 問4 いう え あ
- 問5 い
- 問6 〔韓国〕い,う 〔インド〕え,お
- 問7 気温が高く雨が多いので、稲が育ちやすい。
- 問8 え 問9 え 問10 う 問11 あ 問12 か
- 問13 い 問14 い 問15 う 問16 有田焼(伊万里焼)
- 問17 あ,お 問18 い,う 問19 い
- 問20 う 問21 い 問22 え
- 問23 (1) 司法 (2) 最高裁判所 (3) 地方裁判所 (4) 3