

社 会

(40分)

試験開始の合図があるまで、この問題冊子を開かず、
下記の注意事項をよく読むこと。

注 意 事 項

1. 問題冊子は、18ページまであります。
2. 解答用紙は問題冊子の中央にはさんでいます。解答はすべて、解答用紙に書き込みなさい。
3. 始めの合図でページ数を確認し、受験番号・氏名を書きなさい。
4. 問題の内容についての質問には、いっさい応じません。印刷のはっきりしないところがあれば、静かに手をあげなさい。
5. 時間を知りたいときも、静かに手をあげなさい。
6. 具合が悪くなったり、トイレに行きたいときは、手をあげて、監督の先生の指示に従って行動しなさい。
7. 問題冊子は、各自持ち帰ってよろしい。

次の文章を読んで、あとの問いに答えなさい。

昨年（2013年）3月、安倍首相は、太平洋沿岸諸国との貿易を自由化する協定（以下、英語の略称を使用して① TPPと呼びます）について、日本が話し合いの席に着くことを決め、7月の終わりから交渉に参加しました。TPPが結ばれることによって、加盟する国々には輸入にかかる関税がほとんどなくなり、日本の産業に大きな影響がおよぶことが予想されています。そのなかで、もっとも大きな^{だけき}打撃を受けるとされているのが農業であり、農業団体はTPPを結ぶことに強く反対しています。

以下は、TPPに関する、T中学校のS先生と生徒A君・B君・C君・D君との対話です。これを読んで、あとの問いに答えなさい。

S. 今日は、夏休みの調べ学習の課題にしていたTPPと日本の農業について議論しよう。まず、基本的な知識からきいてみようか。農業で暮らしを立てている人は、日本で働いている人の何パーセントぐらいかな？

A. (1) パーセントぐらいです。

S. そのとおり。じゃあ、農業で得られている収入は、② GDP (国内総生産) [1年間に国内で生産された物やサービスの合計額^{がく}] の何パーセントぐらいかな？

B. やっぱり、(1) パーセントぐらいですか？

A. いやあ、(2) パーセントぐらいしかないですよ。

S. A君のいうとおりだ。じゃあ、なぜ今、それほどもうかっていない農業を絶対守らないといけないという声が出てくるのか、わかるかな？

B. ③ 日本は米の国で、米が日本の文化だからです。小学校の歴史教科書も弥生時代からくわしく書かれていました。

S. なるほど、安倍首相も、3月の④ 衆議院予算委員会で「農業は日本文化そのもの」として国内農業の保護に力を入れると言っていた。日本のことを

さす昔のことばで『古事記』や『日本書紀』にのっているのを知っているかな？ 今、銀行の名前にも使われているし……。ほら、T市駅前にある青い看板の……。出てこない？ あっ、鉄道にかけてはT中学ナンバーワンのC君、^⑥新大阪駅から鹿児島中央駅まで行く一番速い列車は？

C. 「(3)」です。

S. そう。「(3)の国」, みずみずしい^{いなほ}稲穂の国, というわけだ。

A. でも、今では日本は農業国じゃないんだから、B君のようにこだわらなくてもいいと思います。それにしても(1)パーセントの農家の人たちのTPP反対運動が、どうして力を持つんですか？

S. それは、日本がまがりなりにも民主主義国だからじゃないかな。民主主義社会では「少数意見の尊重」が強調されるから、少数派の訴える力が、その人口比率よりもずっと強いことがよくある。それから、^⑦選挙制度も政治的な発言力に関係しているんだ。

C. ^⑧「一票の格差」の問題ですね。

S. そう。農業が盛んな地域の票が、工業やサービス業が盛んで消費者の多い地域の票よりも選挙結果に反映しやすくなっている。

D. 農家の人にとっては、いってみれば死ぬか生きるかの問題だけど、都会の人間にしてみれば、TPPを結んだあと食品が多少安くなってもあまり影響がないから、賛成意見をあまり強く言わないんだと思います。はっきりいって、ぼくはどちらでもいいです。

A. 日本の政治が都会の人だけの意見で決められたらだめだと思います。ぼくはTPPに賛成ですが、受け入れるにしても、農家の人ちゃんと生活していけるだけの対策が必要だと思います。

B. 日本も製造業の競争力がまだ強かった20年ほど前だったら、わざわざTPPを結ばなくてもよかったから、農業を守れたかも知れないのに。

A. 韓国がアメリカと自由貿易協定を結んだので日本もあせっているのかなあ。

半導体も韓国の（ 4 ）とかに負けちゃったし、⑨自動車も心配になってきた……。

- C. 外国の米の方が安いだったら、日本は米作りはやめて、田んぼはつぶして最新設備の工場をつくったらどうですか？
- B. それは、ひどいよ。ぼくは、田んぼが広がっている風景を見るとほっとするんだ。小さいころから、どろんこになりながらカエルとかとっていたし……。
- A. ⑩ある程度の食料は自給しないと、いざというとき危ないと思いますよ。
- S. もし、田んぼを全部つぶしたらどうなると思う？ 洪水のときに……。
- B. 田んぼは、水をためる役割もあるから、下流に住む人が助かるんですね。
- S. そのとおり。
- D. そういえば、「遊水池^{ゆうすいち}」ということばを聞いたことがあります。
- S. そう。利根川流域でも、例の（ 5 ）銅山の鉱毒対策として、明治の終わりごろから造られたことがある。
- D. でも、根本的な対策でないからって、（ 6 ）が遊水池近くの谷中村^{やなか}に住みついて抵抗を続けたとか。そういえば、森林だって同じでしょう。洪水を防いでくれる点では。
- S. その通り。さすが歴史好きのD君だ。これは昔から問題になっていて、平安時代の終わりごろ権力を一手ににぎった白河法皇^⑪でさえ、比叡山延暦寺^⑫の僧兵とすごろくのかげごとと鴨川^{かもがわ}（賀茂川^{がもがわ}）の洪水は自分の思い通りにはいかないと言ったんだが、このころの寺院^⑬などの建設工事が北山^{きたやま}の森林をへらし、洪水がさかんに起こったとの説もある。さて、話をもちよすけど、田んぼがへっても別の方法で洪水対策が可能とすると、TPP反対の理由としてはちょっと弱いかなあ。
- B. 田んぼ一面に水が張ってあったら、夏の気温が急に上がるのを防いでくれます。稲は二酸化炭素を吸って酸素を出してくれるし。斜面で稲を育てるために造られた（ 7 ）は土砂くずれを防いでくれます。

- C. でも、もう田んぼがほとんど残っていない都会周辺では、いまさら（ 8 ）現象を防げるわけではないと思います。（ 8 ）現象と「ゲリラ豪雨」との関係とかも、いろいろ言われたけど、本当に関係しているのかどうか、よく分かっていないようだし……。
- A. でも、C君の言い方だと、地球温暖化の原因はよくわかっていないのだから、節電したり、自動車をできるだけ利用しないようにするのはムダだというのと同じ理屈だよ。
- S. なかなかいい議論をしているね。でも、いまの話は農業がもともと目的としていたわけではない利益、つまり、おまけの話になっちゃったよね。これでは、TPP反対論の根拠としては決定的な力になりにくいよ。ここで、農業と貿易に関する議論にもどろう。
- A. TPPの受け入れがやむを得ないのなら、外国の農作物に対抗できる農家になるためにどうすればいいのか考えてみました。そういえば、理科のI先生の家が農家で、お父さんがK市内でいろいろな野菜を作って、「専業農家」（今は公式の統計には使わない用語）でやっておられるそうです。都会の近くなのに「（ 9 ）農家」（今は公式の統計には使わない用語）でないときいてびっくりしました。それと、日本の高級米や高級なリンゴは味がよく安全性も高いということから、台湾や中国のデパートでよく売れていると聞きましたけど……。
- S. 高級農作物の輸出だが、量的な面でいうとわずかだし、それで競争していくのはどうかな。福島原発事故のあとは、（ 10 ）被害のために、前ほどうまくいっていないようだし……。
- C. 薄型テレビなんか、日本のメーカーが高級品にこだわっているうちに、途上国のシェアを韓国メーカーに完全に取られたんだから、これからTPPを結んでも手遅れだと思います。携帯電話にしても日本のはせっかくの高機能が「（ 11 ）化」とか言って、からかわれてしまうし……。
- A. といっても、日本は製造業中心・輸出中心でやっていくほかないんだから、

世界に目を開いてT P Pを受け入れるのはやむをえないと思います。思い切って農家の戸数を減らして、農地を合併して大規模経営の農家にしたらどうですか？ 品質が良くて安ければ、日本の農業も競争していけますよ。

S. 日本の農家の経営規模が小さいのは、第二次世界大戦後の（ 12 ）で地主の土地がそれまでの（ 13 ）に安く売り渡されたのが主な原因だ。その時点では経済の⑭民主化という点で大きな意義があったし、農家の人々のやる気を引き起こし、生産量も上がったんだ。経済情勢や食料事情も大きく変化した現在、農業をどうしていくかが問われている。

B. でも、農家の人たちは、先祖代々の土地を守りたいし、自然と^{とも}共に生きるのが生きがいなんでしょう？

C. その気持ちはわかるけど、農家のうち65歳以上の人が（ 14 ）パーセントだって教科書に書いてあったよ。農村の若い人はほとんど農業をつがない。それに農地を合併しても、それほど大規模にはならないはずですよ。

⑮アメリカ・オーストラリアなどとは国土の条件が違うんだから。

S. そうともいえるだろう。こういった問題に対しては、そもそも、正しい答えは「ない」というか、決して一つではない。だから、たとえT P Pを結ぶことになったとしても、⑯農家対策、農業対策は最大限やっていかなければならない。そのやりかたも一つでないし、議論が続くだろう。もし、T P Pを結ばないとしたら、日本の産業の柱である⑰製造業の衰退をくいとめる有効な策がなくては国家財政も成り立たなくなる。そうなると、農家のために使われている補助金などは今後あまり出せなくなるかも知れない。もちろん、製造業はそこそこにして金融や情報産業中心に産業構造を変えていく方法もあるだろうが、アメリカの^{あと}後追いをするだけでいつまでたっても追いつけないだろう。

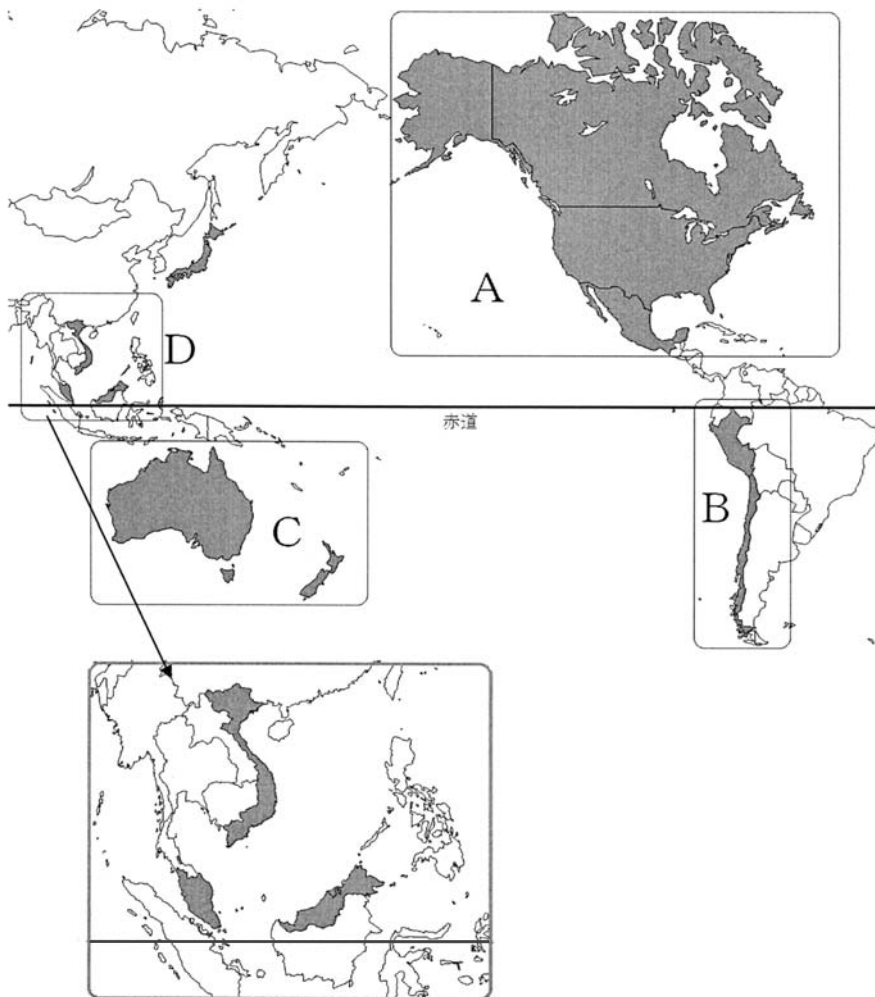
A. 先生のお話は、あまりにも悲観的^{ひかんてき}じゃないですか？ 同じアジアの（ 15 ）がそういった方面では成功しているんだから、日本もやれるんじゃないですか？

- S. いや、それはごく小さな島国だからこそできたという面がある。(15) は淡路島ほどの大きさしかなくて、第一次産業の人口はゼロに近い。実は、韓国が10年以上前に日本に先がけて全国をブロードバンド(高速・大容量のインターネット回線) ^{もう} 網でカバーし、情報技術分野で日本を追いぬいていったのは国土の「狭さ」という地理的条件が有利に働いたともいわれるんだ。もちろん、[Ⓔ] (15) は事実上一党独裁の国だし、韓国は議院内閣制の日本とはちがって大統領制の国で、しかも議会も一院制(日本などとは違って議会が一つしかない)だから政策決定が速い、という有利さもあっただろう。ただ、A君のいうように、世界のグローバル化の波にもっと乗るべきだということも、一つの考え方ではあると思うよ。
- B. ぼくは、^{とうし} 投資とかでお金を増やしていくことは日本人の性格に合わないと思います。農業をぼちぼちやりながら、一生けんめいにモノづくりにはげむのが日本人の生きる道だと思うんです。
- S. なるほど、B君の考えも最初から最後まで一貫していいね。でも、みんなから見ると、理屈よりも感情が先走ってしまっているかな。逆に言うと、A君は^{りつ} 理詰めで来るから、みんなから感情的に賛成してもらえないかもしれないかな。
- さて、まだまだ議論は^つ 尽きないと思うけど、そろそろ時間だからこれくらいにしようか？ みんなよく調べてきたし、よく考えて議論することができた。TPPのような問題に対しては、単純に賛成とか反対とかいうレベルでは決着がつかない。そもそも、正解がない、あるいは一つではない問題をとことん議論していけてこそ、日本が民主主義国家だといえる。将来の日本を背負っていくのは君たちなのだから、今後もこういった問題を考え続けていってほしい。

問1. 文中の空らん（ 1 ）～（ 15 ）に入るもっとも適切なことばを、以下の条件にしたがって答えなさい。

- (1) に関しては、【1, 3, 9, 15】のなかから選んで答えること。
- (2) に関しても、【1, 3, 9, 15】のなかから選んで答えること。
- (3) に関しては、ひらがな3字で答えること。
- (4) に関しては、【インテル, ハイアール, ルネサス, サムスン】のなかから選んで答えること。
- (5) ・ (6) ・ (7) ・ (9) ・ (10) ・ (12) ・ (13) に関しては、漢字で答えること。
- (8) に関しては、「□ート□イ□ン□」のかたちで、すべてカタカナで答えること。
- (11) は、生物進化論に係る地名をカタカナ5字で答えること。
- (14) に関しては、【20, 40, 60, 80】のなかから選んで答えること。

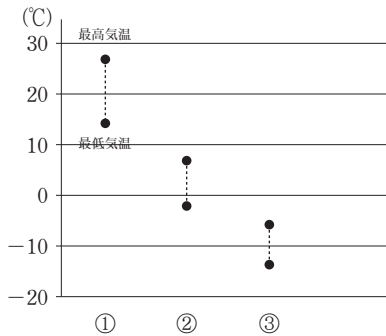
問2. 下線部①に関して、2013年8月現在、日本を含めた12カ国で交渉が行われています。その12カ国を次のページの地図に色をつけて表していますが、小さいためにはっきりと描かれていない国もあります。また、次のページの表はその交渉参加12カ国のいずれかの統計を表しています。表中の「地域」は地図中のA～Dの地域を表しています。この地図と表をもとに、あとの問いに答えなさい。



地域	国名	人口(万人) (2012年)	人口密度 (人/km ²)	国民総所得(億ドル) (2010年)
	日本	12,666	335	53,344
A	1	31,579	33	146,456
A	メキシコ	11,614	59	10,080
D	ベトナム	8,973	257	1,011
A	2	3,467	4	14,759
B	ペルー	2,973	23	1,367
D	マレーシア	2,932	89	2,204
C	3	2,292	3	10,303
B	4	1,742	23	1,732
D	シンガポール	525	7,382	2,034
C	ニュージーランド	446	17	1,242
D	ブルネイ	41	72	125

『データブック・オブ・ザ・ワールド 2013』より作成。

- (1) 次のグラフは、前ページの表中の1・2・3の各首都の1月の気温について表したものです。正しい組み合わせを右の表の(あ)~(か)のなかから一つ選び、記号で答えなさい。



	1	2	3
(あ)	①	②	③
(い)	①	③	②
(う)	②	①	③
(え)	②	③	①
(お)	③	①	②
(か)	③	②	①

- (2) 日本はこれらの国々から多くのものを輸入しています。次の表は前ページの表中の1・3・4の国から日本への輸出品のうち、金額順で上位3位以内に入っているものを示しています。正しい組み合わせを次の表の(あ)~(か)のなかから一つ選び、記号で答えなさい。

	1	3	4
(あ)	サケとマス	鉄鉱石	とうもろこし
(い)	サケとマス	とうもろこし	鉄鉱石
(う)	鉄鉱石	サケとマス	とうもろこし
(え)	鉄鉱石	とうもろこし	サケとマス
(お)	とうもろこし	サケとマス	鉄鉱石
(か)	とうもろこし	鉄鉱石	サケとマス

『データブックオブ・ザ・ワールド2013』より作成。

- (3) 今後TPPへの参加国の拡大を考えたときに、参加可能の条件を太平洋沿岸国に限定した場合、TPPへの参加ができないと考えられる国を次の(あ)~(え)のなかから一つ選び、記号で答えなさい。

(あ) インド (い) タイ (う) 大韓民国 (え) フィリピン

問 3. 下線部②に関連して、2012 年度の日本の GDP（国内総生産）の 24.3 %を第二次産業が生み出しています。第二次産業についての説明として正しいものを次の(あ)～(え)のなかから一つ選び、記号で答えなさい。

- (あ) 第二次世界大戦で大きな被害を受け、さらに、朝鮮戦争をきっかけとする不景気を経験した。
- (い) 1970 年代の石油危機に際しては、省エネに取り組み、コンピューターの分野で世界をリードした。
- (う) 1990 年代は円安で苦しめられ、労働賃金の安い海外に工場を移転させる企業が相次ぎ、「産業の空洞化」と呼ばれた。
- (え) 2011 年の東日本大震災では、東北からの部品の供給がストップし、直接被害のなかった地域の企業も損害を受けた。

問 4. 下線部③について、以下に日本の農業の歴史に関する表を示します。文中の空らん(1)～(17)にあてはまるもっとも適切な語句を入れなさい。ただし、(15)以外は漢字で答えなさい。

【弥生時代】

人びとは水田に稲を植え、(1) で穂をつみとり、(2) 倉庫などにたくわえるようになった。

【古墳時代】

大陸からやってきた(3) の技術によって(4) 製の農具がより多くつくられるようになり、米などの生産量も増えた。

【飛鳥時代】

大化の改新後、6 歳以上の農民は(5) とよばれる一定面積の田が与えられるようになったが、^{しゅうかく}収穫高の 3 パーセントを(6) [税の名前] としてとられることになった。

【奈良時代】

重い税にたえかねた農民が逃げるようになった。この時代にできた『(7)』という歌集には貧しい農民のようすがよまれている。

【平安時代】

(5) を等しく農民に与えることができなくなった。そして、有力な農民がみずから土地を開発し、貴族や寺院にわたして、保護を受けた。

【鎌倉時代】

(8) や馬にすきをひかせて田を深く耕せるようになり、草や灰を使った肥料も使われるようになって、収穫が増えた。さらに(9) を^{うらさく}裏作とする(10) 作も西日本を中心に広がった。

【室町時代】

品種改良や中国からの新しい品種の導入も進み、肥料も多様化した結果、収穫が増えた。また、朝鮮半島から伝わり、^{はだ}肌ざわりがよく暖かいということで衣服に使われるようになった(11) が戦国時代には三河などで栽培されるようになった。

【安土・桃山時代】

豊臣秀吉の(12) [漢字4字]によって多くの独立した農民が生まれたが、彼らは土地にしばりつけられ重い年貢を取られることになった。

【江戸時代】

生産を増やすために荒れ地を開いたり池を埋め立てたりして(13) が開発された。(14) ぐわを使って土を深く耕したり、油かすや干したイワシなどの肥料も広まり、さらに収穫が増えた。また、(15) や^{とうみ}唐箕などの農具の発明によって脱穀も楽にできるようになった。

【明治時代】

(16) によって農民は土地の所有を確実にしたが、重い税が課せられ、のちに土地を失う農民も増えていった。(17) がますます重要な輸出品となって、^{ようさん}養蚕業が発展し、米と^{まゆ}繭が日本の農業の中心となっていった。

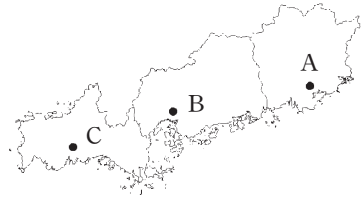
問5. 下線部④に関連して、国会での予算案の審議と議決についての説明として正しいものを次の(あ)～(え)のなかから一つ選び、記号で答えなさい。

- (あ) 両院の予算委員会は、政府が提出した予算案の審議のみを専門的に行う。
- (い) 政府が提出した予算案が衆議院本会議で否決されれば、内閣は総辞職する。
- (う) 予算案は衆議院で議決されると、次に参議院の予算委員会で審議される。
- (え) 予算案について両院の議決が異なり、両院協議会でも不一致であると、内閣は総辞職する。

問6. 下線部⑤に関する説明として正しいものを次の(あ)～(え)のなかから一つ選び、記号で答えなさい。

- (あ) 『古事記』や『日本書紀』にのっているヤマトタケルノミコトの話は、すべてが真実というわけではないが、国のなりたちを知る手がかりになるとされている。
- (い) 『古事記』や『日本書紀』がまとめられた背景としては、6世紀初めには天皇中心の国のしくみが整ったことがあげられる。
- (う) 『古事記』は、江戸時代に国学者の本居宣長によって研究が深められ、中国から伝わってきた思想が古くからの日本の思想より優れているということがはっきりした。
- (え) 『日本書紀』は、江戸時代、寺子屋の教材としてもっともよく用いられた。

問7. 下線部⑥に関して、新幹線の各駅で販売される駅弁にはその地域の特産を使用したものもあります。次の(あ)～(お)は新大阪駅から鹿児島中央駅までの駅のうち、右の地図中のA～Eのいずれかの駅で販売されている駅弁です。地図は駅のある県のみを表示しています。主にEの駅で販売されているものとして正しいものを一つ選び、記号で答えなさい。



- (あ) [鮎屋三代]：球磨川でとれた天然の鮎を使った出汁で炊いた御飯に、鮎の甘露煮がのっている。
- (い) [鰹一本釣り弁当]：鰹の港、枕崎の特産、生き〆一本釣り「枕崎ぶえん鰹」をふんだんに使用し、鰹の深い味わいをぜいたくに演出。
- (う) [焼きふぐ寿司]：開いたふぐを一晩昆布〆にしたものを、焼き色を付けて風味をだす。
- (え) [まんま借り借りままかり鮎]：名物の新鮮なままかり（サッパ）の酢〆を使用したにぎり鮎に大根の甘酢漬けのシャキシャキした歯ざわりをプラスした新しいままかり鮎。
- (お) [しゃもじかきめし]：日本一のカキの産地ならではの磯の香りが漂う、カキ三昧のお弁当。赤いしゃもじ型の容器は、開運をもたらすと言われる縁起物。

問 8. 下線部⑦に関連して、2013 年の公職選挙法改正以降の日本の国会議員選挙に関する説明として、あやまっているものを次の(あ)～(え)のなかから一つ選び、記号で答えなさい。

- (あ) 日本国外にいる有権者も、インターネットを通じて国会議員選挙に投票できるようになった。
- (い) 候補者は、選挙活動としてホームページやブログの更新ができるようになった。
- (う) 有権者は、SNS（フェイスブック、ツイッターなど）で候補者の応援ができるようになった。
- (え) 候補者は、政策を語った演説の動画を動画共有サービス（ユーチューブなど）で有権者に視聴してもらえるようになった。

問 9. 下線部⑧に関連して、次の例文を読み、問いに答えなさい。

A 中学の一学年は 1 組から 6 組まであります。1 組から 4 組までの生徒数は 15 人ずつですが、5 組と 6 組の生徒数は 30 人ずつです。各クラスから代表を 1 人ずつ集めて多数決で物事を決めるとき、15 人クラスにとって都合のよい案に決まると、5 組と 6 組の生徒は不満を感じてしまいます。

例文の 1 組から 4 組の生徒がクラス代表を選ぶ 1 票は、5 組や 6 組の生徒がクラス代表を選ぶ 1 票に比べて何倍の価値があるか、数字 で答えなさい。

問13. 下線部⑫について、この寺院を焼打ちした武将の名前を漢字で答えなさい。

問14. 下線部⑬に関して、地方でもたくさんの寺院が建てられました。12世紀に奥州^{おうしゅう}藤原氏によって建てられ、阿弥陀仏^{あみだぶつ}をまつるお堂が特に有名な寺院の名前を漢字で答えなさい。また、その写真を次の(あ)～(え)のなかから一つ選び、記号で答えなさい。


(あ)



(い)



(う)



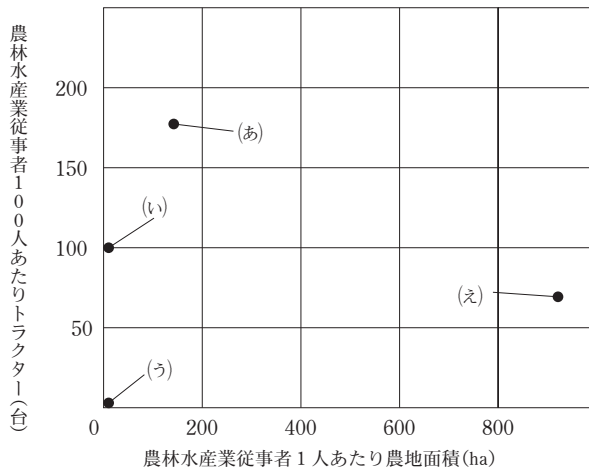
(え)



問15. 戦後に行われた下線部⑭に関する次の文章(あ)～(え)のなかから、あやまっているものを一つ選び、記号で答えなさい。

- (あ) 日本国憲法の施行によって初めて女性の参政権が認められ、女性議員も当選した。
- (い) 小学校6年、中学校3年の義務教育になり、男女共学が原則になった。
- (う) 労働者には労働組合をつくることが認められ、働く者の権利が保障された。
- (え) 独占的な力を持っていた特定の大会社が解体された。

問16. 下線部⑮に関して、次のグラフはアメリカ合衆国、オーストラリア、中国、日本の農業の規模について表したものです。日本にあたるものを(あ)～(え)のなかから一つ選び、記号で答えなさい。



統計年次は2009年。『世界国勢図会2012/13』より作成。

問17. 下線部⑯・⑰について、責任を負っている日本の省の名前を、それぞれ漢字5字で答えなさい。

問18. 下線部⑱に関連して、二院制と議院内閣制の特徴の説明として正しいものを次の(あ)～(え)のなかから一つ選び、記号で答えなさい。

- (あ) 二院制は、同じ法案を両院がそれぞれ審議するので、一院制よりも政府が提出する法案に対して慎重な審議が期待できる。
- (い) 二院制は、それぞれの議院が異なる賛否を示すこともあるので、一院制よりもすばやい決定が期待できる。
- (う) 議院内閣制では、首相は議会とは無関係に選出されるので、大統領制よりも立法と行政のつながりは弱い。
- (え) 議院内閣制では、議会は内閣不信任案を議決できるので、大統領制よりも立法と行政のつながりは弱い。

問19. 生徒A君・B君・C君・D君の立場に関する次の説明文(あ)～(え)のうち、あやまっているものを一つ選び、記号で答えなさい。

- (あ) A君は、日本の競争力重視の立場からTPPに賛成しているが、農業を切り捨てるべきであるとは考えていない。
- (い) B君は、日本の伝統産業である農業を保護するべきだ、という立場からTPPに反対している。
- (う) C君は、TPPに賛成であり、TPPによって日本の輸出が大きく伸びると主張している。
- (え) D君は、TPPに関して、とくに賛成も反対もしていない。

社 会 解 答 用 紙	受験番号		氏名	
--------------------	------	--	----	--

問 1	(1)		(2)		(3)	
	(4)		(5)		(6)	
	(7)		(8)	ー ト イ ン	(9)	
	(10)		(11)		(12)	
	(13)		(14)		(15)	

問 2	(1)		(2)		(3)		問 3		
-----	-----	--	-----	--	-----	--	-----	--	--

問 4	(1)		(2)		(3)	
	(4)		(5)		(6)	
	(7)		(8)		(9)	
	(10)		(11)		(12)	
	(13)		(14)		(15)	
	(16)		(17)			

問 5		問 6		問 7		問 8		問 9		倍	問 10	
-----	--	-----	--	-----	--	-----	--	-----	--	---	------	--

問 11												
------	--	--	--	--	--	--	--	--	--	--	--	--

問 12		問 13	
問 14	寺 記 号	問 15	問 16
問 17	⑯		⑰
問 18		問 19	

I : 小計
II : 小計
III : 小計
IV : 小計
合 計 :

前期・社会

- 問1 (1) 3 (2) 1 (3) みずほ
(4) サムスン (5) 足尾 (6) 田中正造
(7) 棚田 (8) ヒートアイランド (9) 兼業
(10) 風評 (11) ガラパゴス (12) 農地改革
(13) 小作人 (小作農) (14) 60 (15) シンガポール
- 問2 (1) え (2) か (3) あ
- 問3 え
- 問4 (1) 石包丁 (2) 高床 (3) 渡来人
(4) 鉄 (5) 口分田 (6) 租
(7) 万葉集 (8) 牛 (9) 麦
(10) 二毛 (11) 木綿 (12) 太閤検地
(13) 新田 (14) 備中 (15) 千歯こき
(16) 地租改正 (17) 生糸
- 問5 う
- 問6 あ
- 問7 い
- 問8 あ
- 問9 2 (倍)
- 問10 う
- 問11 世界的な異常気象による不作や国際紛争の際に十分な食料を輸入できない可能性がある。
- 問12 藤原頼通
- 問13 織田信長
- 問14 中尊 (寺) , う
- 問15 あ
- 問16 い
- 問17 ⑩ 農林水産省 ⑪ 経済産業省
- 問18 あ
- 問19 う